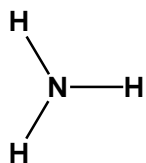



## Weshalb ist folgende Lewis-Formel falsch?

**Aufgabe:** Bezeichnen Sie in den folgenden Lewisformeln den Fehler und notieren Sie die Lewis-Formel richtig.

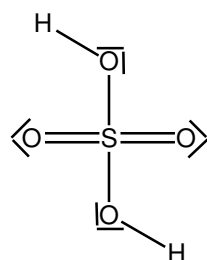
a.)



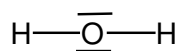
b.)



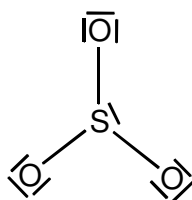
c.)



d.)



e.)



f.)

