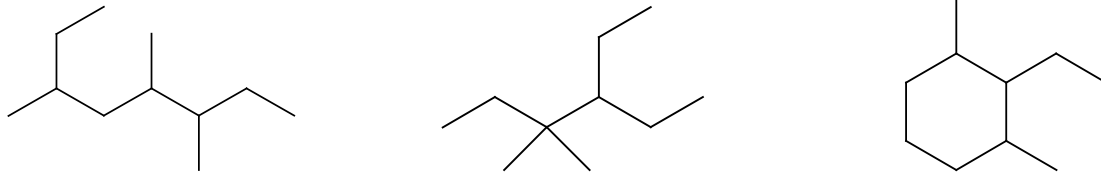
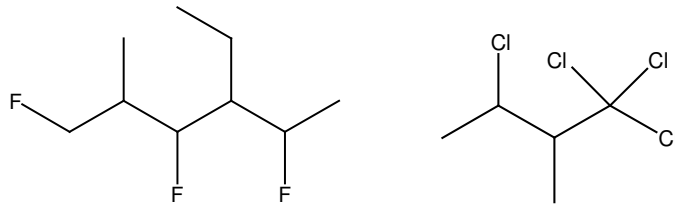


Übungsaufgaben zur Benennung von Kohlenwasserstoffen

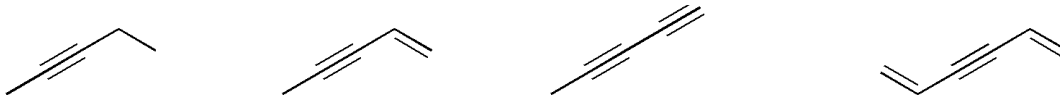
1. Benennen Sie folgende verzweigte Alkane:



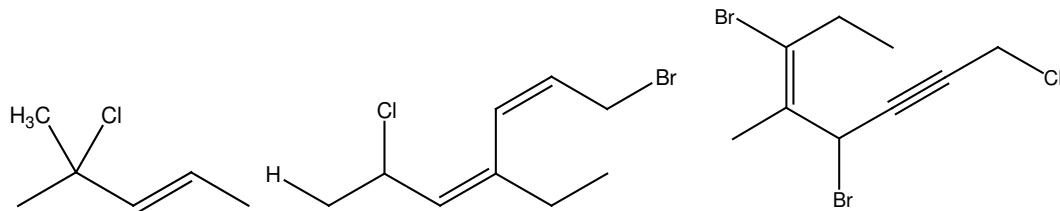
2. Benennen Sie die folgenden substituierten, verzweigten Alkane:



3. Benennen Sie die folgenden ungesättigten Moleküle



4. Benennen Sie die folgenden substituierten, verzweigten Alkene und Alkine



5. Die Knacknuss. Benennen Sie folgendes Molekül (Vorsicht: *sehr* schwierig!):

